


Wiskunde – Graad 2

Welkom by ons Conquesta Olimpiade.
Lees al die vrae noukeurig.
(Onderwyserbystand word toegelaat deur
die teks hardop uit te lees.)

Jy moet besluit watter een is die regte
antwoord vir elke vraag – en dan 'n
sirkel rondom (a), (b), (c) of (d) aan die
regterkant van elke vraag trek. Jy mag
net een antwoord vir elke vraag kies.




Voorbeeld:


Watter getal volg?

125, 130, 135, 140,




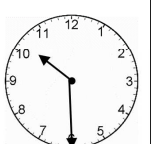
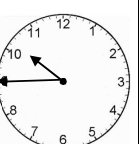




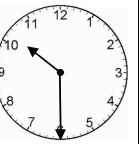
- | | | | |
|-----|-----|-----|-----|
| (a) | (b) | (c) | (d) |
| 130 | 150 | 145 | 135 |



Kyk na die prent onder en omkring die korrekte
antwoorde vir vrae 1 – 9.



1.	Daar sit 4 skilpadbesies op 'n bos. Elkeen het 6 kolle. Hoeveel kolle tel Hayden?	(a) 22	(b) 23	(c) 24	(d) 20
2.	Hoeveel lyne van simmetrie is op een skilpadbesie?	(a) 1	(b) 2	(c) 0	(d) 3

3.	47 leerders stap in die park. 19 leerders sien 'n skilpadbesie.  Hoeveel leerders sien <u>nie</u> die besie raak <u>nie</u> ?	(a) 26	(b) 29	(c) 28	(d) 27
4.	Die waarde van die 4 in 47 is 47	(a) 40 tiene	(b) 4 ene of 4	(c) 4 tiene of 40 ene	(d) 400 ene
5.	Die korrekte spelling vir 47 is	(a) sewen en veertig	(b) seve en veertig	(c) sewe en viertig	(d) sewe en veertig
6.	Ons ry halfelf vanaf die park. Watter horlosie wys dit?	(a) 	(b) 	(c) 	(d) 
7.	Hoe laat sal dit 'n halfuur later wees? 	(a) 	(b) 	(c) 	(d) 
8.	Hoeveel minute is daar in 'n halfuur?	(a) 5	(b) 60	(c) 15	(d) 30
9.	Watter maand kom net voor Julie?	(a) Junie	(b) Augustus	(c) September	(d) Mei