



Conquesta 2019

(Internasionale Meervoudige-keuse Primêre Skool Olimpiades – Gev. 1998)
 Koerier: Krantzviewweg 105, Kloof 3610 / Pos: Posbus 99, Kloof 3640, Suid-Afrika
 Tel: (031) 764-1972 * Faks: (086) 637-7808 of (031) 764-0074
 E-Pos: conquest@iafrica.com * Webtuiste: www.conquestaolympiads.com



Aardrykskunde – Graad 8

Welkom by jou Conquesta Olimpiade. Wanneer jy besluit het watter van die antwoorde die korrekte een is, krap die letter op die ooreenstemmende blokkie op jou antwoordvel dood. Byvoorbeeld:- As die antwoord op vraag 4 c is, krap die letter c in die blokkie wat c langs nommer 4 bevat, dood (sien voorbeeld 1 hieronder). Indien 'n leerder 'n fout maak en eerder b as die antwoord wil merk, moet c netjies doodgetrek word en b gemerk word (sien voorbeeld 2 hieronder).

Voorbeeld 1:-

4.	a	b	<input checked="" type="checkbox"/>	d
----	---	---	-------------------------------------	---

Voorbeeld 2:-

4.	a	<input checked="" type="checkbox"/>	<input checked="" type="checkbox"/>	d
----	---	-------------------------------------	-------------------------------------	---

1. Kies die foutiewe stelling.

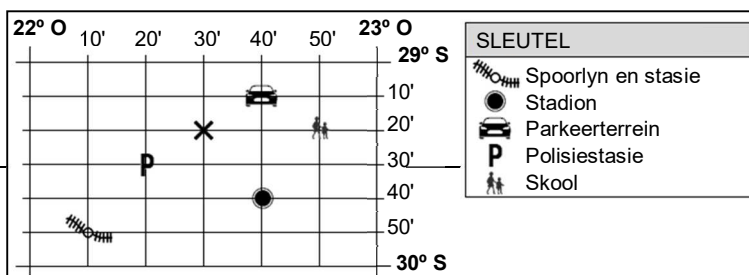
- (a) Die aardbol is 'n geronde model van die aarde.
- (b) Die aardbol toon hoe die aarde uit die ruimte lyk.
- (c) Vastelande op die aardbol is in die verkeerde posisie.
- (d) Vastelande op die aardbol is die korrekte fatsoen.



Kyk na die diagram regs.

2. Noem die koördinate van die parkeerterrein.

- (a) 29° 20' S; 22° 30' O.
- (b) 29° 10' S; 22° 40' O.
- (c) 29° 20' S; 22° 50' O.
- (d) 29° 40' S; 22° 40' O.



3. Die eienskap by 29° 40' S; 22° 40' O is

- (a) die stadion.
- (b) die polisiestasie.
- (c) 'n skool.
- (d) die spoorlyn en stasie.

Kyk na die kaart hieronder.



4. Hierdie is 'n voorbeeld van 'n

- (a) wêreldskaal.
- (b) streekskaal.
- (c) plaaslike skaal.
- (d) vastelandskaal.

5. Durban is in die

- (a) Noordelike en Westelike halfronde.
- (b) Suidelike en Oostelike halfronde.
- (c) Noordelike en Oostelike halfronde.
- (d) Suidelike en Westelike halfronde.

6. Die aarde neem uur om twee 360° omwentelings te voltooi.

- (a) 24
- (b) 48
- (c) 36
- (d) 12

7. Japan is sewe uur voor Suid-Afrika. As dit in Suid-Afrika 9 nm is, is die tyd in Japan

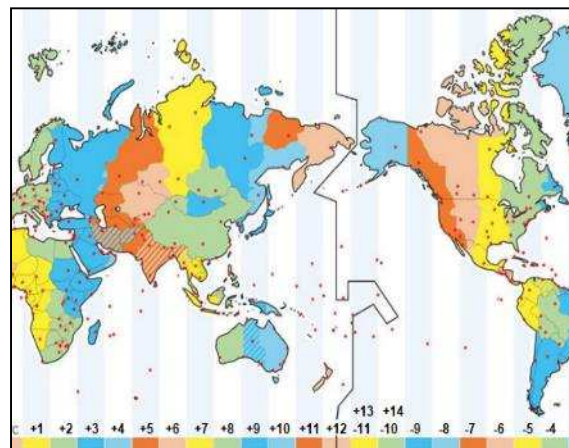
- (a) 2 vm.
- (b) 4 vm.
- (c) 5 vm.
- (d) 6 vm.

8. Tyd verander met een uur vir elke

- (a) 30°.
- (b) 60°.
- (c) 15°.
- (d) 24°.

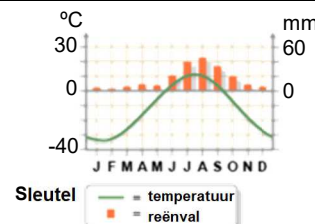
9. Op die kaart hieronder, word die internasionale datumlyn by lengteligging getoon.

- (a) 90°
- (b) 180°
- (c) 0°
- (d) 45°



10. Die diagram regs verteenwoordig 'n

- (a) poolklimaat.
- (b) matige klimaat.
- (c) toendra- & bergklimaat.
- (d) vastelandsklimaat.



11. Identifiseer die valse stelling omtrent 'n subtropiese klimaat.

- (a) Kom voor tussen 20° en 40° breedteliggings.
- (b) Kom dikwels op weskuste van vastelande voor.
- (c) Somer temperature is ± 25°C.
- (d) Winter temperature is ± 15°C.