




Conquesta 2008

(Internasionale Meervoudige-keuse Primêre Skool Olimpiades - Bev. 1998)
 Conquesta, Posbus 99, Kloof, 3640, Suid-Afrika
 Tel: (031) 764-1972 * Faks: (086) 637-7808 of (031) 764-0074
 E-pos: conquest@iafrica.com * Webtuiste: www.conquestaolympiads.com




Syfergeletterdheid – Graad 3


Welkom by ons Conquesta Olimpiade.
 Lees al die vrae noukeurig.

(Onderwyserbystand word toegelaat.)
 Jy moet besluit watter een is die regte antwoord vir elke vraag – en dan 'n sirkel rondom (a), (b), (c) of (d) aan die regte kant van elke vraag trek.
 Jy mag net een antwoord vir elke vraag kies.

<u>Voorbeeld:</u> 61 + 4 =	(a) 64	(b) 24	(c) 65	(d) 12
--	-----------	-----------	-----------	-----------




Verjaarsdae (vrae 1 – 9)



1.	My pa is 43. My oupa is twee keer so oud. Hoe oud is my oupa?	(a) 76	(b) 35	(c) 86	(d) 85
2.	My ouma sal oor drie jaar 82 jaar oud wees. Hoe oud is sy nou?	(a) 79	(b) 85	(c) 65	(d) 74
3.	Ek het 2 lint gebruik om ouma se geskenk mee toe te draai	(a) m	(b) cm	(c) km	(d) ml
4.	Ons hou 'n spesiale aandete vir ouma se verjaarsdag. Dit begin om halfagt. Watter horlosie is reg?	(a) 	(b) 	(c) 	(d)

5.	My oom arriveer 15 minute vroeg. Hoe laat is dit?	(a) kwart oor 4	(b) kwart voor 8	(c) halfagt	(d) kwart oor 7
6.	Hoeveel minute is daar in 'n uur?	(a) 100	(b) 60	(c) 45	(d) 20
7.	5 Mense kom vir aandete. Die voedsel het R160 gekos. Hoeveel het elke persoon se voedsel gekos as almal dieselfde geëet het?	(a) R47	(b) R56	(c) R32	(d) R31
8.	Ons sny ouma se koek in 8 stukke. Ek eet 2 stukke. Watter deel van die koek is oor?	(a) $\frac{6}{8}$	(b) $\frac{3}{8}$	(c) $\frac{4}{8}$	(d) $\frac{7}{8}$
9.	Ma se verjaarsdag is op 14 Junie. Pa se verjaarsdag is 2 weke later. Op die hoeveelste verjaar Pa?	(a) 13 Junie	(b) 28 Junie	(c) 16 Junie	(d) 30 Junie



Omsirkel die ontbrekende getalle.
 (vrae 10 – 12)



10.	110 120 130 140	(a) 160	(b) 200	(c) 134	(d) 150
11.	140 138 136 134	(a) 132	(b) 123	(c) 133	(d) 135
12.	16 20 24 28	(a) 30	(b) 32	(c) 36	(d) 50